
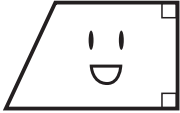
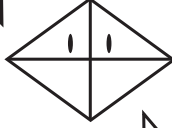

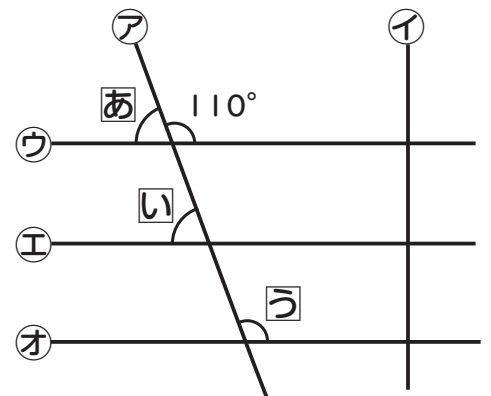


①四角形について□に合う言葉や数字を書きましょう。


<p>ぼくは□形だよ。</p> 	<p>わたしは□だよ。</p> 	<p>ぼくは□だよ。</p> 	<p>わたしは□だよ。</p> 
<p>4つの辺の□がすべて等しいよ。</p>	<p>向かい合った□組の辺が平行だよ。</p>	<p>辺の長さはすべて□四角形だよ。</p>	<p>向かい合った2組の辺が□だよ。</p>
<p>4つの角がすべて□だよ。</p>	<p>□つの角が直角だよ。</p>	<p>2本の□は垂直に交わるよ。</p>	<p>向かい合った□の長さは等しく、□の大きさも等しいよ。</p>

②ア～オの直線について答えましょう。

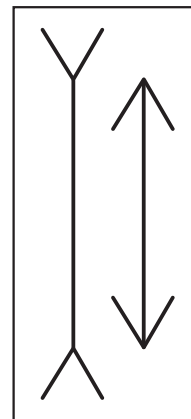
- ①平行になっている直線はどれでしょう。  
( ) ( ) ( )
- ②ウ、㊦、㊧と垂直な直線はどれでしょう。  
( )
- ③あいうの角度はそれぞれ何度でしょう。  
あ( ) い( ) う( )



どう？ たての線が平行に見えないでしょ。でも平行だよ。



ホント！



これは同じ長さに見えないけど、同じ長さだよ。

