

4年


算数

計算のきまり


4年 組

名前


① 3人それぞれから計算をしながらゴールまでいきましょう。 答え
 答えの合計が一番大きいのはだれでしょう。



合計



合計



合計

$(72 + 192) \div 24 = \square$

$288 - 128 \div 16 = \square$

$(12 + 8 \div 2) - 4 = \square$

$(9 \times 4 + 16) \div 4 = \square$

$800 - (600 + 50) + 80 = \square$

$20 \div 4 \times (12 + 28) = \square$

$270 \div (13 + 17) + 60 = \square$

$8 \times 5 + 36 \div 9 = \square$

$37 + (70 - 45) \times 2 = \square$

$(24 + 16) \times 5 \div 8 = \square$

$18 + 9 \times 4 \div 3 = \square$

ゴール

$24 + 16 \times 5 \div 8 = \square$

② □の中に+ - × ÷のどれかを入れましょう。()も使えます。

ア $4 \square 4 \square 4 \square 4 = 2$

イ $(4 \square 4) \square 4 \square 4 = 6$

ウ $(3 \square 3 \square 3) \square 3 = 3$

エ $3 \square 3 \square 3 \square 3 = 8$



きんた