

4年


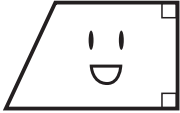
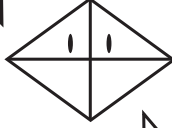

算数

四角形の特ちょう

4年 組

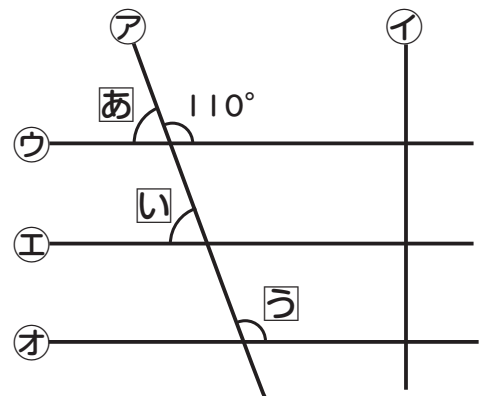
名前

①四角形について□に合う言葉や数字を書きましょう。


<p>ぼくは 正方形 だよ。</p> 	<p>わたしは 台形 だよ。</p> 	<p>ぼくは ひし形 だよ。</p> 	<p>わたしは 平行四辺形 だよ。</p> 
<p>4つの辺の 長さ がすべて等しいよ。</p>	<p>向かい合った 1 組の辺が平行だよ。</p>	<p>辺の長さはすべて 等しい 四角形だよ。</p>	<p>向かい合った 2 組の辺が 平行 だよ。</p>
<p>4つの角がすべて 直角 だよ。</p>	<p>2 つの角が直角だよ。</p>	<p>2本の 対角線 は 垂直 に交わるよ。</p>	<p>向かい合った 辺 の長さは等しく、角 の大きさも等しいよ。</p>

②ア～オの直線について答えましょう。

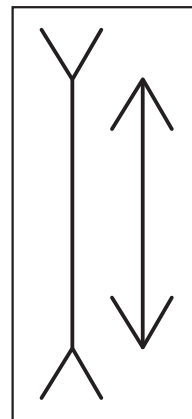
- ①平行になっている直線はどれでしょうか。
(ウ)(エ)(オ)
- ②ウ、エ、オと垂直な直線はどれでしょうか。
(イ)
- ③あいうの角度はそれぞれ何度でしょうか。
あ(70°) い(70°) う(110°)



どう？ たての線が平行に見えないでしょ。でも平行だよ。



ホント！



これは同じ長さに見えないけど、同じ長さだよ。

