

レンたちが はかせと いっしょに クッキーを やいたよ。
★レンたちの はなしや、かたちごとに みやすく せいりした
したの ずを みて、①から ③の もんだいに こたえよう。



5しゅるいを
1まいずつ
つくったよ。







はあと
ハートを
3まい
つくったよ。



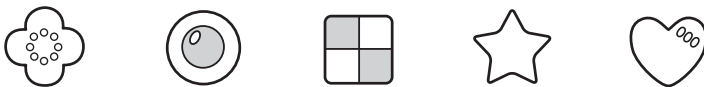
うまいぞ!



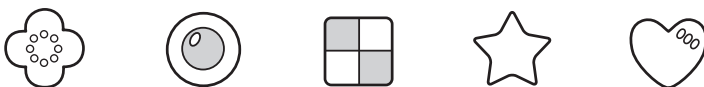
すきな かたちを
2まいずつ
つくったわ。



① かりんの クッキーのうち、**?**で かかれて
いるのは どれかな? ○で かこもう。



② ミオの クッキーのうち、**?**で かかれて
いるのは どれかな? ○で かこもう。



③ リクが たべちゃったのは なんまいかな?

まい

			☆	
			☆	♡
	○		☆	♡
🌸	○		☆	♡
🌸	○	☐	☆	♡
🌸	○	☐	☆	♡
🌸	○	☐	☆	♡
はな	まる	しかく	ほし	ハート