



さんすう	かずを せいりしよう!	いち ねん	くみ	なまえ
------	-------------	-------	----	-----

レンたちが はかせと いっしょに クッキーを やいたよ。  
 ★レンたちの はなしや、かたちごとに みやすく せいりしたの ずを みて、①から ③の もんだいに こたえよう。



5しゅるいを  
1まいずつ  
つくったよ。







はあと  
ハートを  
3まい  
つくったよ。



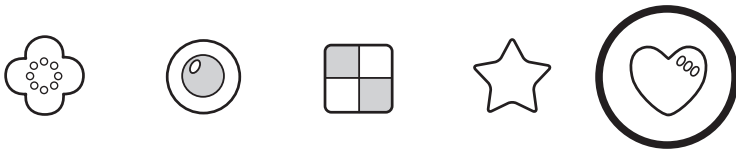
うまいぞ!



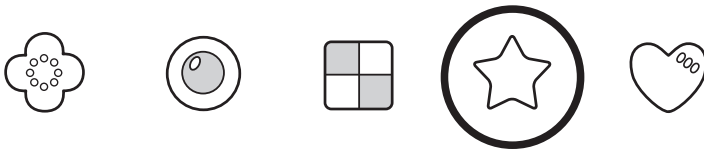
すきな かたちを  
2まいずつ  
つくったわ。



① かりんの クッキーの うち、?で かかれて  
いるのは どれかな? ○で かこもう。



② ミオの クッキーの うち、?で かかれて  
いるのは どれかな? ○で かこもう。



③ リクが たべちゃったのは なんまいかな?

**4** まい

			☆	
			☆	♡
	○		☆	♡
🌸	○		☆	♡
🌸	○	☐	☆	♡
🌸	○	☐	☆	♡
🌸	○	☐	☆	♡
🌸	○	☐	☆	♡
はな	まる	しかく	ほし	ハート