

3年

算数

分数を使った表し方

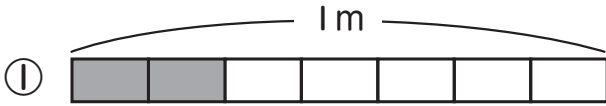
3年

組

名前

①～④のそれぞれの□に答えを書きましょう。

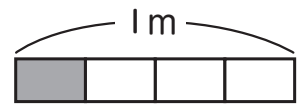
①  のところの長さは何mですか。



m



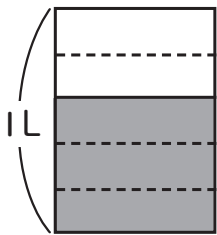
m



これは $\frac{1}{4}$ m ね。



② 水を 1 L のマスではかりました。



① マスの 1 めもりは何 L を表していますか。

L

② 水のかさは何 L ですか。

L

1 めもりは 1 L を 5 等分した大きさね。



> < を
書くんだな。



③ □ に当てはまる等号・不等号を書きましょう。

ア $\frac{6}{10}$ □ 0.5 イ $\frac{2}{10}$ □ 0.2 ウ $\frac{5}{10}$ □ 1.5

エ $\frac{8}{10}$ □ 0.8 オ $\frac{12}{10}$ □ 0.2 カ $\frac{1}{10}$ □ 1

④ 小さいじゅんに番号を□に書きましょう。

$\frac{9}{10}$ 0.3 0.5 $\frac{13}{10}$ 0 1.2 $\frac{4}{10}$ 1

分数を小数にかえると、分かりやすいね。

