

二年

算数
さんずう

なん
何人 いるのかな？

二年





くみ
組

名前
まえ

レンの クラスの ぜんいんが 1れつに ならんて いるよ。

★①～④の もんだいに 答えよう。4つの 絵と 5人の ことばから かんが
考えてね。

※前からのじゅん番



いちばん
まえ
前だよ。



かりん

まえ
前から
9人目だよ。



きんた

わたしと きんたの
あいだ
間に 3人 いるわ。



ミオ

ぼくの うしろに
12人 いるよ。



レン

うしろから
2人目だ。



リク

① かりんから きんたまでは なん
何人 いるのかな？

9

人

② きんたと レンの あいだ
間には なん
何人 いるかな？

5

人

③ レンから うしろは なん
何人 いるかな？

13

人

④ レンの クラスは ぜんぶで 27 人だよ！

27