

4年

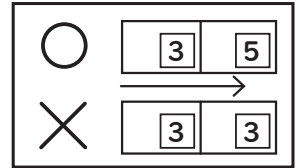
算数

何十でわる計算







4年 組

名前

- ①計算をして□に答えを書きましょう。
- ②スタートから同じ答えが続かないように進むとだれのところに着くでしょう。ななめには進めません。



答え はかせ

	スタート →	80 ÷ 20 □ 4	60 ÷ 30 □ 2	100 ÷ 50 □ 2	630 ÷ 90 □ 7
	50 ÷ 30 □ 1 残り □ 20	200 ÷ 50 □ 4	420 ÷ 70 □ 6	300 ÷ 60 □ 5	200 ÷ 40 □ 5
	70 ÷ 50 □ 1 残り □ 20	320 ÷ 80 □ 4	480 ÷ 80 □ 6	450 ÷ 90 □ 5	480 ÷ 80 □ 6
	80 ÷ 60 □ 1 残り □ 20	360 ÷ 40 □ 9	X	590 ÷ 80 □ 7 残り □ 30	520 ÷ 70 □ 7 残り □ 30
	650 ÷ 80 □ 8 残り □ 10	570 ÷ 70 □ 8 残り □ 10	380 ÷ 40 □ 9 残り □ 20	660 ÷ 90 □ 7 残り □ 30	380 ÷ 50 □ 7 残り □ 30
	490 ÷ 60 □ 8 残り □ 10	730 ÷ 90 □ 8 残り □ 10	740 ÷ 80 □ 9 残り □ 20	650 ÷ 70 □ 9 残り □ 20	560 ÷ 60 □ 9 残り □ 20
 かじん	 きんた	 ミオ	 はかせ	 リク	