

3年

算数

10000 より大きい数

3年

組

名前

スタートから同じマークにとびながらゴールまで行きましょう。  
と中にある問題の答えを□に数字で書きましょう。通ったじゅんに  
記号を書きましょう。

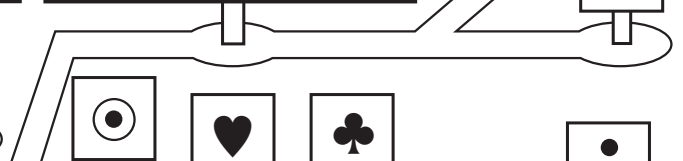


答え

--	--	--	--	--	--	--	--




㉑ 百万を7こ、十万を3こ合わせた数  
□

㉒ 1000を35こ集めた数  
□



㉓ 680000は1000を□こ集めた数



㉔ 二万五千百四十三は数字で□

㉕ 37426106の百万くらいの位の数字は□

㉖ 一万を4こ、千を7こ、十を1こ合わせた数は□

