


























名前	ち ず き ごう 「地図記号」さいころ勝負	名前
----	---------------------------------	----

1 	2 	3 	4 	5 
6 	1 a 	2 a 	3 a 	4 a 
5 a 	6 a 	1 b 	2 b 	3 b 
4 b 	5 b 	6 b 	1 c 	2 c 
3 c 	4 c 	5 c 	6 c 	1 d 

1 警察署 <small>けいさつしよ</small>	2 病院 <small>びやういん</small>	3 郵便局 <small>ゆうびんきよく</small>	4 神社 <small>じんじや</small>	5 発電所 <small>はつでんしよ</small>
6 博物館 <small>はくぶつかん</small>	1 a 図書館 <small>としよかん</small>	2 a 老人ホーム <small>ろうじん</small>	3 a 畑 <small>はたけ</small>	4 a 茶畑 <small>ちやばたけ</small>
5 a 桑畑 <small>くわばたけ</small>	6 a 果樹園 <small>かじゆえん</small>	1 b 針葉樹林 <small>しんようじゆりん</small>	2 b 自然災害 <small>しぜんさいがい</small>	3 b 市役所 <small>しやくしよ</small>
4 b 消防署 <small>しよぼうしよ</small>	5 b 小中学校 <small>せうちゆうがく</small>	6 b 裁判所 <small>さいばんしよ</small>	1 c 寺院 <small>じいん</small>	2 c 税務署 <small>ぜいむしよ</small>
3 c 風車 <small>ふうしや</small>	4 c 气象台 <small>きしやうだい</small>	5 c 煙突 <small>えんとつ</small>	6 c 官公署 <small>かんこうしよ</small>	1 d 採鉱地 <small>さいこうち</small>

- ①じゃんけんをして、さいころをふる順番を決めます。
 ②さいころの目の「地図記号」をひとつ選んで「赤○」を付けます。(もうひとは「青○」を付けます)



- ③さいころの目の地図記号がなかったら、「赤○」、「青○」は、付けられません。
 ④最後に、赤○か青○の多いほうが勝ちです。