

4年


算数

つながり計算

4年 組

名前

計算をして答えを□に書きましょう。
 それぞれ最後の答え□の数字は
 イラストア～カのどれを表しますか。
 ふき出しの□に書きましょう。




(ヒント) 「64= むし(虫)」のように、数字にひらがなをあててみてね。

①

$$90 \div 9 \quad \square \div 2 \quad \square \div 2 \quad \square \div 5 \quad \square \times 7 = \square$$

$$\downarrow \quad \uparrow \quad \downarrow \quad \uparrow \quad \downarrow \quad \uparrow \quad \downarrow \quad \uparrow$$

(れい) $\square \times 5 \quad \square \times 4 \quad \square \times 4 \quad \square \div 8$


イラストは□ね。
 かりん

②

$$270 \div 9 \quad \square \div 2 \quad \square \div 6 \quad \square \div 3 \quad \square \times 4 + 4 = \square$$

$$\downarrow \quad \uparrow \quad \downarrow \quad \uparrow \quad \downarrow \quad \uparrow \quad \downarrow \quad \uparrow$$

$$\square \times 6 \quad \square \times 4 \quad \square \times 5 \quad \square \div 5$$


イラストは□だ。
 きんた

③

$$600 \div 6 \quad \square \div 8 \quad \square \div 2 \quad \square \div 9 \quad \square \times 3 = \square$$

$$\downarrow \quad \uparrow \quad \downarrow \quad \uparrow \quad \downarrow \quad \uparrow \quad \downarrow \quad \uparrow$$

$$\square \times 4 \quad \square \times 6 \quad \square \times 3 \quad \square \div 10$$


イラストは□ね。
 ミオ

④

$$800 \div 2 \quad \square \div 6 \quad \square \div 6 \quad \square \div 3 \quad \square \times 2 + 7 \quad \square$$

$$\downarrow \quad \uparrow \quad \downarrow \quad \uparrow \quad \downarrow \quad \uparrow \quad \downarrow \quad \uparrow$$

$$\square \times 3 \quad \square \times 9 \quad \square \times 2 \quad \square \div 5$$

イラストは□だね。
 レン