

4年

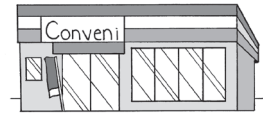
算数

折れ線グラフを書こう

4年 組

名前

1 1時間ごとにコンビニにいるお客さんの数を調べて折れ線グラフを作りました。



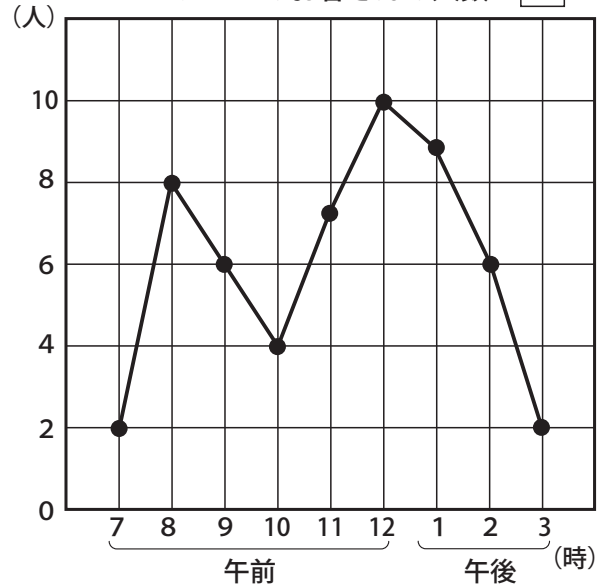
コンビニのお客さんの人数

表題

① たてじくは何を表していますか。

② 午前8時のお客さんは何人ですか。

③ お客さんがいちばん多いのは何時で何人ですか。



表を作ったら、表題を書くのね



2 A市の1年間の気温を調べて表にしました。折れ線グラフに表しましょう。表題も書きましょう。


1年間の気温の^かわり方 (A市)

月	1	2	3	4	5	6	7	8	9	10	11	12
気温(度)	7	6	9	15	20	23	27	28	25	18	12	8



(度)

1年間の気温の^かわり方 (A市)



たてのじくに「気温」をとり
横のじくに「月」をとるよ

