

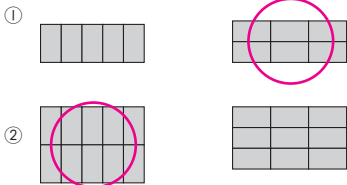
算
1年

3学期総まとめ

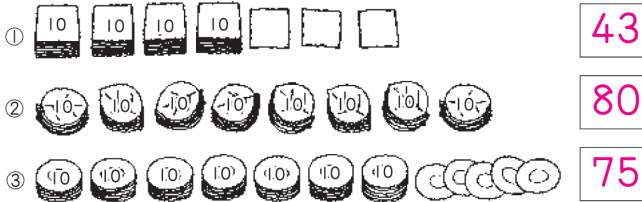
がんばろう！テスト①

月 日
てん

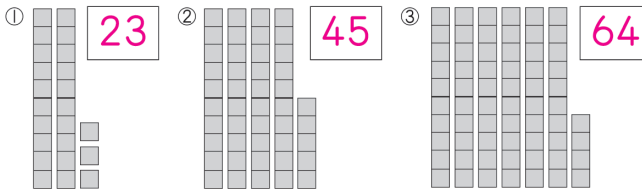
- ① おなじ タイルを ならべて かたちを つくりました。
ひろいほうの かたちに まるをつけましょう。(各20点・40点)



- ② 10まいずつ たばに して かぞえました。なんまい ありますか。
□に すう字を かきましょう。(各10点・30点)



- ③ タイルの かずを、□に すう字で かきましょう。(各10点・30点)



— 解説 —

お子さんのやったプリントは、なるべくファイルして、とっておきましょう。全部できているプリントを見るのは、自信がつかますし、あとでまちがえた問題だけ見直せば、苦手な問題を効率よくなくすことができます。

では、問題の解説です。

- ①は、広さを比べる問題です。タイルの数を数えて広さを調べ、数の多いほうに○をつけましょう。
- ②は、100までの数を考える問題です。10円硬貨におきかえて考えると、わかりやすくなります。
- ③は、タイルで100までの数を考えます。1本の長いタイルが、タイル10こぶんをあらわしていますから、長いタイルが2本あれば、タイル20こぶんになります。
- *この時期の一年生は、大人からみれば簡単な100までの数の問題でも、すらすら解くことはできません。けれども、10円硬貨をつかいながら、似たような問題をいくつかやると、十進法がわかってきます。

〈おすすめプリント〉

お子さんの学習に、ご利用ください。

1年：2学期総まとめ「がんばろうテスト」の④

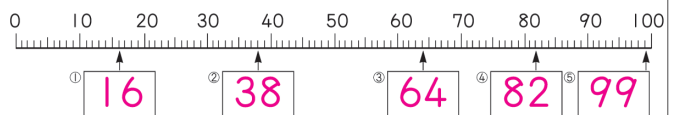
算
1年

3学期総まとめ

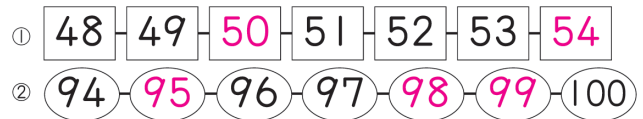
がんばろう！テスト②

月 日
てん

- ① いくつですか。□に、すう字を かきましょう。(各5点・25点)



- ② あいて いる ところに、すう字を かきましょう。(各4点・20点)



- ③ □に、あう すう字を かきましょう。(各5点・15点)

- ① 80は、76より 4 おおい かずです。
- ② 77より 3 おおい かずは、80です。
- ③ 10を 10に あつめた かずは、100です。



- ④ つぎの けいさんを しましょう。(各5点・40点)

- ① $20 + 9 = 29$ ② $72 - 2 = 70$
- ③ $8 + 30 = 38$ ④ $60 - 20 = 40$
- ⑤ $60 + 30 = 90$ ⑥ $33 - 2 = 31$
- ⑦ $3 + 64 = 67$ ⑧ $54 - 30 = 24$

— 解説 —

プリントをやるときは、はじめにざっとみて、自分のできそうな問題からやっていくように、お子さんにアドバイスしてあげてください。たとえば、計算が好きだったら、計算問題からやっていくとよいでしょう。

では、問題の解説です。

- ①は、1めもりが1をあらわしています。たとえば、10のところから6めもり右にすすんだら、16になります。
- ②は、数字の並び方を左から右にみて、数がふえているのかへっているのかを考えてから、問題をやりましょう。
- ③は、1の問題の数直線を利用して考えると、とてもわかりやすくなります。
- ④は、お子さんといっしょに、一の位と十の位の色わけを試してみましょう。位がわかると、計算しやすくなります。
- *数直線の小さなめもりを数えるときは、きれいにけずった鉛筆かシャープペンシルの先をつかうとよいでしょう。シャープペンシルの芯をださないでめもりを数えると、数直線が汚れないので、数えやすくなります。

〈おすすめプリント〉

お子さんの学習に、ご利用ください。

1年：3学期総まとめ「がんばろうテスト」の③と④